



**ESCOLA MUNICIPAL NOSSA SENHORA APARECIDA**

**PROFESSORA: ANDRESSA**

**TURMA: 2º Ano**

**Período de Realização: 10 a 14 de agosto.**

### 14º ROTEIRO

#### Componente Curriculares:

- ✚ Língua Portuguesa;
- ✚ Matemática;
- ✚ História;
- ✚ Geografia;
- ✚ Ciências;
- ✚ Ensino Religioso.

#### Senhores pais e responsáveis

Seu filho deverá realizar todas as atividades. Ele terá o período de 10 a 14 de agosto para concluir essas atividades. Cuidem-se e cuidem de sua família. Em breve tudo estará bem.

**Professoras: Andressa**

#### VÍDEO OU ÁUDIO DO PROFESSOR

- ✚ VOCÊ DEVERÁ OUVIR E VER O VÍDEO EXPLICATIVO QUE ESTÁ DISPONÍVEL EM NOSSO GRUPO ANTES DE REALIZAR AS ATIVIDADES.

#### O QUE VOCÊ VAI ESTUDAR?

- ✚ GÊNERO TEXTUAL LITERATURA DE CORDEL ,LEITURA E INTERPRETAÇÃO E CONSTRUÇÃO DE ESCRITA ALFABÉTICA, ORTOGRAFIA.
- ✚ CÁLCULO MENTAL E MEDIDAS DE COMPRIMENTO.
- ✚ DIFERENTES FORMAS DE ORGANIZAÇÃO DA FAMÍLIA. VÍNCULOS SOCIAIS E RELAÇÕES DE AMIZADES.
- ✚ SÍMBOLOS RELIGIOSOS E FESTAS RELIGIOSAS(INDÍGENAS).
- ✚ PAISAGEM E TRANSFORMAÇÕES : PRODUÇÃO, CIRCULAÇÃO E CONSUMO.
- ✚ A VIDA NAS REGIÕES GELADAS.



### **PARA QUE VAMOS ESTUDAR?**

- + LER E COMPREENDER O SIGNIFICADO DE EXPRESSÃO COM BASE NO CONTEXTO DO POEMA DE CORDEL; CONHECER O GÊNERO TEXTUAL,
- + RESOLVER CÁLCULO MENTAL, ESTIMAR, MEDIR E COMPARAR COMPRIMENTOS.
- + CONHECER ELEMENTOS DA PRÓPRIA HISTÓRIA DE VIDA;
- + IDENTIFICAR A IMPORTÂNCIA DA ÁGUA PARA A VIDA;
- + IDENTIFICAR A PRESENÇA DE SERES VIVOS EM OUTROS ESPAÇOS;
- + IDENTIFICAR SÍMBOLOS RELIGIOSOS E FESTAS RELIGIOSAS;

### **COMO VAMOS ESTUDAR OS CONTEÚDOS?**

- + ORGANIZE SEUS ESTUDOS!!
- + COLOQUE A DATA EM QUE IRÁ REALIZAR AS ATIVIDADES E REALIZE-AS COM CAPRICHOS.

### **COMO VAMOS REGISTRAR O QUE APRENDEMOS?**

- + LEITURAS, INTERPRETAÇÕES E PRODUÇÕES ESCRITAS, REGISTROS ATRAVÉS DE DESENHOS, PESQUISA, CONVERSAS COM MEMBROS DA FAMÍLIA E REALIZAÇÃO DAS ATIVIDADES NO PRÓPRIO ROTEIRO E NO LIVRO DIDÁTICO.



SEGUNDA-FEIRA, 10 DE AGOSTO DE 2020.

## LÍNGUA PORTUGUESA

### PALHACINHO DE CORDEL

Palhaço palhacinho  
Leva um tapa cai no chão  
Nariz de bola vermelho  
Um comprido sapatão  
Uma cara colorida  
Suspensório e calção

Pulando no picadeiro  
Saltando feito peteca  
Quando cai sua cartola  
Aparece a careca  
Bate uma torta na cara  
E se enche de meleca



O palhaço é engraçado  
Quando chora e quando não  
Ele veio do distante  
Mundo da imaginação  
O palhaço é o rei do circo  
Dono do meu coração

### ATIVIDADES

1) CIRCULE NO TEXTO AS PALAVRAS COM Ç :

2) AGORA COPIE AS PALAVRAS QUE VOCÊ CIRCULOU:

---

3) ESCOLHA UMA PALAVRA QUE VOCÊ CIRCULOU E FORME UMA FRASE:

---

---

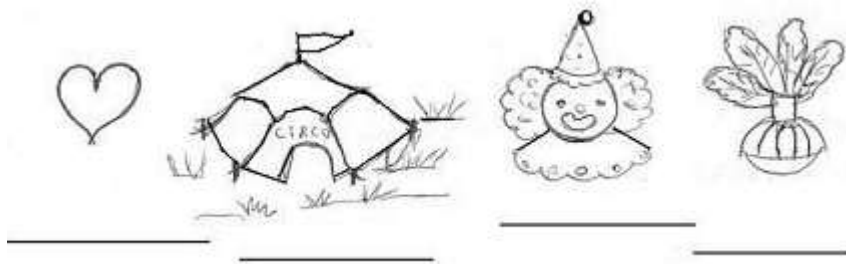
---

SECRETARIA MUNICIPAL DE EDUCAÇÃO  
ATIVIDADES COMPLEMENTARES DE ESTUDO – COVID 19

4) COMPLETE OS VERSOS DE ACORDO COM O CORDEL :

LEVA UM TAPA E CAI NO \_\_\_\_\_  
NARIZ DE \_\_\_\_\_ VERMELHO.  
UMA CARA \_\_\_\_\_.

5) DÊ NOMES AOS DESENHOS:



6) ESTAMOS NO MÊS DO DIA DOS PAIS.

FAÇA UM VERSO PARA SEU PAI

Empty rectangular box for writing a verse for Father's Day.

SECRETARIA MUNICIPAL DE EDUCAÇÃO  
ATIVIDADES COMPLEMENTARES DE ESTUDO – COVID 19

ATIVIDADES COM CÁLCULO MENTAL

- 1) DESCUBRA OS RESULTADOS DAS SUBTRAÇÕES UTILIZANDO O MATERIAL DOURADO OU CÁLCULO MENTAL

$90-20=$ _____	$70-60=$ _____
$80-30=$ _____	$60-40=$ _____
$50-10=$ _____	$70-30=$ _____
$30-20=$ _____	$90-60=$ _____
$20-10=$ _____	$50-40=$ _____
$80-30=$ _____	$40-10=$ _____

- 2) CALCULE AS ADIÇÕES ATRAVÉS DO CÁLCULO MENTAL OU MATERIAL DOURADO

$90+20=$ _____	$70+60=$ _____
$80+30=$ _____	$60+40=$ _____
$50+10=$ _____	$70+30=$ _____
$30+20=$ _____	$90+60=$ _____
$20+10=$ _____	$50+40=$ _____
$80+30=$ _____	$40+10=$ _____

### HISTÓRIA

**AS DIFERENTES FORMAS DE ORGANIZAÇÃO DA FAMÍLIA E DA COMUNIDADE:  
OS VÍNCULOS PESSOAIS E AS RELAÇÕES DE AMIZADE.**

LEITURA DA PÁGINA 30 DO LIVRO DE HISTÓRIA.

REALIZAR AS ATIVIDADES NO LIVRO DIDÁTICO DE HISTÓRIA: PÁGINA 31.

#### URSO POLAR



#### CIÊNCIAS

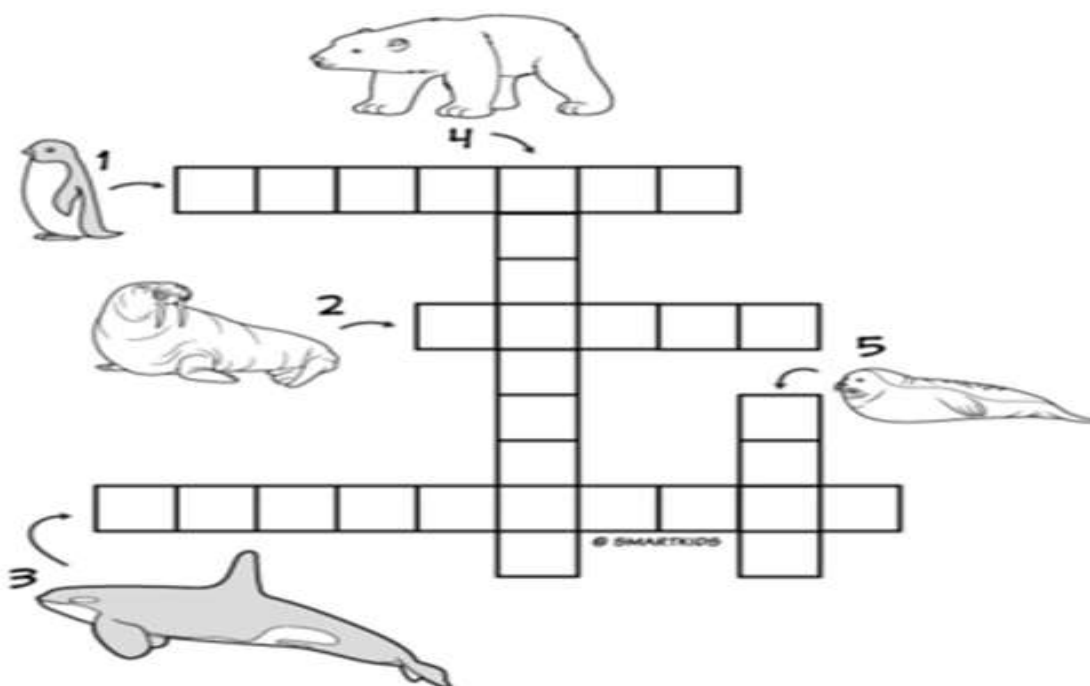
#### A VIDA NAS REGIÕES GELADAS DA TERRA

O URSO POLAR É UM DOS ANIMAIS DO ÁRTICO QUE MELHOR SE ADAPTAM AO FRIO DESTA REGIÃO DO PLANETA, GRAÇAS AO SEU PELO E A CAMADA DE GORDURA SOB A PELE QUE O PROTEGE. EMBORA SE ALIMENTE DE DIFERENTES ANIMAIS, SUAS ISCAS FAVORITAS SÃO FILHOTES DE FOCAS E RENAS. PODE SER ENCONTRADO NAS REGIÕES DA GROENLÂNDIA, ISLÂNDIA, RÚSSIA, ALASCA E CANADÁ.

LEIA OS NOMES DE OUTROS ANIMAIS QUE VIVEM EM REGIÕES GELADAS E DEPOIS COMPLETE O DIAGRAMA:

**FOCA- PINGUIM- URSO POLAR – BALEIA ORCA- MORSA**

Complete o diagrama com nomes de animais que vivem em ambientes gelados:





QUINTA-FEIRA, 13 DE AGOSTO DE 2020.

## GEOGRAFIA

OS USOS DOS RECURSOS NATURAIS: A ÁGUA. PAISAGEM EM TRANSFORMAÇÃO: PRODUÇÃO, CIRCULAÇÃO E CONSUMO.

### ÁGUA NA NATUREZA

Água para BEBER  
Água para LAVAR  
Água para REGAR  
Água para NADAR

Água nos LAGOS  
Água nos RIOS  
Água das CHUVAS  
Água nos MARES

O nosso planeta azul  
É mesmo uma beleza  
Do norte até o sul  
Tem água na natureza.



☞ Procure as palavras grifadas no caça-palavras:




## ENSINO RELIGIOSO

EM CADA RELIGIÃO, OS SÍMBOLOS SÃO FORMAS DE REPRESENTAR O SENTIMENTO RELIGIOSO E A FÉ.

OS INDÍGENAS GUARANI FAZEM ESCULTURAS DE ANIMAIS COM MADEIRA COLETADA NA LUA CRESCENTE OU MINGUANTE. CASO CONTRÁRIO, O OBJETO PODE PERDER SEU SIGNIFICADO RELIGIOSO. AS REPRESENTAÇÕES DE MUITOS ANIMAIS, COMO O TATU, SÃO UTILIZADAS COMO MEIO MEDICINAL PARA QUE AS CRIANÇAS SE TORNEM FISICAMENTE FORTES.

PARA MUITAS RELIGIÕES DE TRADIÇÃO AFRO-BRASILEIRA, COMO O CANDOMBLÉ E A UMBANDA, IEMANJÁ É CONSIDERADA A RAINHA DO MAR. A VESTIMENTA DA BAIANA REPRESENTA A ROUPA UTILIZADA PELOS ADEPTOS DESSAS RELIGIÕES EM OCASIÕES ESPECIAIS.

**REPRESENTE ATRAVÉS DE DESENHO UM SÍMBOLO OU UMA FESTA DA SUA RELIGIÃO:**







SEXTA-FEIRA, 14 DE AGOSTO DE 2020.

### LÍNGUA PORTUGUESA

O QUE É ENTREVISTA?

A ENTREVISTA É UM TIPO DE TEXTO QUE TEM A FUNÇÃO DE INFORMAR SOBRE UM ACONTECIMENTO OU LEVAR AO PÚBLICO IDEIAS E OPINIÕES DA PESSOA ENTREVISTADA.

## REPÓRTER POR UM DIA

- Vamos fazer uma entrevista com alguém muito importante?  
- Sabe quem é? Se você disse o papai, acertou.

EDUCAR X



Quantos anos você tem?

O que mais gosta de fazer?

Qual é o seu esporte preferido?

De que cor você mais gosta?

Para qual time de futebol você torce?

Qual é a sua comida predileta?

Qual é o seu maior sonho?

### MATEMÁTICA

LIVRO PÁGINA 114

TRATAMENTO DA INFORMAÇÃO (LEITURA DO NÚMERO 1 E ATIVIDADES LETRAS: A,B,C.